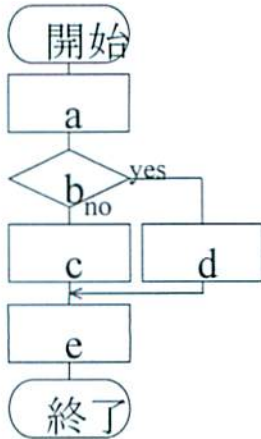


フローチャート学習 身近な内容で考えてみよう。

次の文章を読んでフローチャートを作りなさい。(1と2は記号の部分に入る番号を答え、3はフローチャートを作って、そこに番号を入れる。)

■練習問題1

「ノートを買いに文房具屋へ行き、A社とB社のうち、安い方を買って家に帰る。」

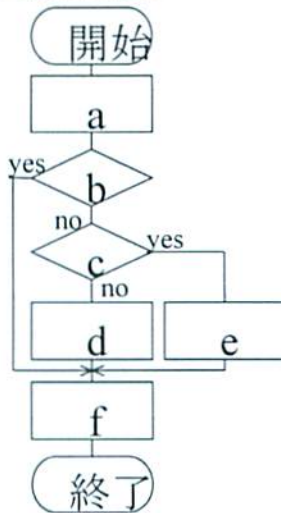


- ① A社のノートを買う
- ② B社のノートを買う
- ③ 家に帰る。
- ④ 文房具屋へ行く
- ⑤ A社の方が安い

a	b	c	d	e
④	⑤	②	①	③

■練習問題2

「単3乾電池を買いにホームセンターへ行き、A社とB社のうち、安い方を買うことにする。ただし、ホームセンターが休みなら家に帰る。」

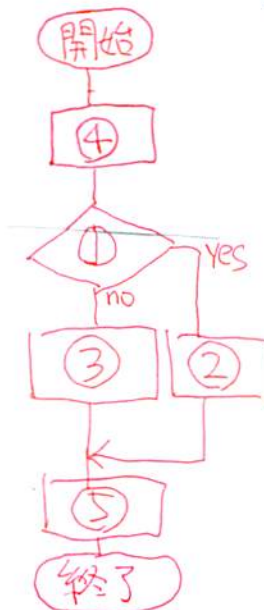


- ① A社の電池を買う
- ② B社の電池を買う
- ③ 家に帰る。
- ④ ホームセンターが休み
- ⑤ ホームセンターへ行く
- ⑥ A社の方が安い

a	b	c	d	e	f
⑤	④	⑥	②	①	③

■練習問題3

「家を出発して学校に行く、晴れていれば自転車で行くが雨なら傘を差して歩いて行く。」



- ① 晴れているか
- ② 自転車に乗る
- ③ 傘を差して歩いて行く。
- ④ 家を出発する。
- ⑤ 学校に到着する。